

# Algorithmique Distribuée : TD 5, arbre couvrant en largeur d'abord

Stéphane Devismes

## 1 Le problème

Nous nous intéressons au calcul d'un arbre couvrant en largeur enraciné en un processus  $R$  ( $R$  est appelée *racine*) d'un réseau  $G = (V, E)$ . Un *graphe partiel* de  $G$  est un graphe avec le même ensemble de nœuds  $V$  et dont l'ensemble d'arête  $E'$  est un sous-ensemble de  $E$  ( $E' \subseteq E$ ). Un *arbre couvrant* est un graphe partiel de  $G$  acyclique et connexe. Un *arbre couvrant en largeur d'abord* de  $G$ ,  $T = (V, E_T)$ , enraciné en  $R$  est un arbre couvrant de  $G$  tel que, pour tout processus  $p$ , l'unique chemin élémentaire de  $p$  à  $R$  dans  $T$  est de longueur  $\|p, R\|$ , où  $\|p, R\|$  est la distance de  $p$  à  $R$  dans  $G$  (i.e., la longueur du plus court chemin de  $p$  à  $R$  dans  $G$ ). La hauteur d'un arbre enraciné est la longueur maximale d'un chemin élémentaire reliant la racine à une feuille (une feuille est un nœud de degré 1).

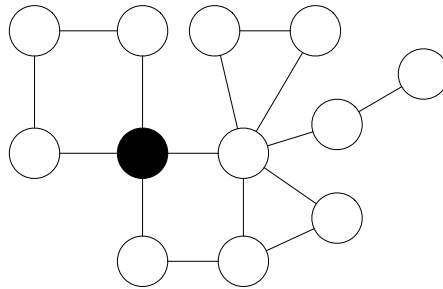


FIGURE 1 – Réseau quelconque.

**Question 1.** Proposez un arbre couvrant en largeur d'abord du graphe donné en figure 1. La racine étant le nœud noir. Quelle est la hauteur de votre arbre ?

**Question 2.** Combien y a-t-il de d'arbres couvrants en largeur d'abord possible avec comme racine le nœud noir ?

Nous rappelons que le *diamètre* d'un graphe est la distance maximale entre deux nœuds, c'est-à-dire, la longueur du plus long des plus court chemins.

**Question 3.** Quel est le diamètre du graphe proposé en figure 1 ? Quelle est la relation entre le diamètre d'un graphe connexe et la hauteur d'un arbre couvrant en largeur d'abord de ce graphe.

## 2 L'algorithme

Nous allons écrire un algorithme (autostabilisant) *silencieux* pour le calcul d'un arbre couvrant en largeur d'abord d'un réseau bidirectionnel connexe. Cet arbre sera enraciné au processus  $R$ . Nous considérons le modèle à états sous l'hypothèse d'un démon distribué inéquitable. Nous rappelons que pour tout processus  $p$ , l'ensemble des voisins de  $p$  est noté  $\mathcal{N}_p$ . Nous supposons également que les processus connaissent une borne supérieure  $D$  sur le diamètre du réseau. Ensuite, nous utilisons les variables suivantes :

- Chaque processus  $p$  détient une variable  $d_p$ , dont le domaine est  $\{0, \dots, D\}$ .  
Dans une configuration terminale,  $d_p = \|\|p, R\|\|$ .
- De plus, si  $p$  n'est pas la racine, alors  $p$  a en plus un pointeur  $père_p$ , dont le domaine est  $\mathcal{N}_p$ .  
Dans une configuration terminale,  $père_p$  désigne le « père » de  $p$  dans l'arbre, c'est-à-dire un voisin  $q$  tel que  $\|\|q, R\|\| = \|\|p, R\|\| - 1$

Ainsi, le programme de la racine  $R$  contient uniquement la règle  $CD$  suivante :

$$CD :: d_R \neq 0 \mapsto d_R \leftarrow 0$$

En revanche, tout processus nonracine  $p$  dispose de deux règles : la première,  $CD$ , pour calculer  $d_p$ , la seconde,  $CP$ , pour calculer  $père_p$ . La seconde règle est activable seulement si la première ne l'est pas. La première règle consiste à affecter  $d_p$  à la valeur minimum entre les variables  $d$  de ses voisins plus 1 et  $D$ , si  $d_p$  ne vaut pas déjà cette valeur.

**Question 4.** Écrivez les deux règles  $CD$  et  $CP$  pour un processus nonracine  $p$ .

**Question 5.**  $CD$  et  $CP$  sont-elles mutuellement exclusive pour un processus nonracine donné ? Justifiez.

## 3 Preuve de l'algorithme

L'algorithme étant silencieux, la preuve de correction consiste d'abord à montrer que les variables locales définissent un arbre couvrant en largeur dans toute configuration terminale (correction partielle). Puis, nous montrons que toute exécution atteint une configuration terminale en un nombre fini de pas de calcul (terminaison).

### 3.1 Correction partielle

Soit  $\gamma_t$  une configuration terminale.


**Question 6.** Démontrez, par contradiction, le lemme suivant.

**Lemme 1.** Pour tout processus  $p$ , on a  $d_p \geq \|\|p, R\|\|$  dans  $\gamma_t$ .



**Question 7.** Démontrez, par récurrence sur la distance des processus à la racine  $R$ , le lemme suivant.

**Lemme 2.** Pour tout processus  $p$ , on a  $d_p = \|p, R\|$  dans  $\gamma_t$ .



**Corollaire 1.** Pour tout processus  $p \neq R$ , on a  $\min\{d_q, q \in \mathcal{N}_p\} = d_p - 1$  dans  $\gamma_t$ .

**Preuve.** Soit  $p$  un processus différent de  $R$ . Par définition, il existe un voisin  $q$  de  $p$  tel que  $\|q, R\| = \|p, R\| - 1$ . De plus, dans  $\gamma_t$ ,  $d_p = \|p, R\|$  et pour tout voisin  $q'$  de  $p$ , on a  $d_{q'} = \|q', R\| \in \{\|p, R\| - 1, \|p, R\|, \|p, R\| + 1\}$  avec en particulier  $d_q = \|p, R\| - 1$ , d'après le lemme 2. Donc,  $d_p - 1 = \|p, R\| - 1 = \min\{d_q, q \in \mathcal{N}_p\}$  dans  $\gamma_t$ .  $\square$

D'après le corollaire 1 et le fait que la garde de la règle  $CP$  qui est inactivable pour tout processus nonracine dans  $\gamma_t$ , on a :

**Corollaire 2.** Pour tout processus  $p \neq R$ , on a  $d_{\text{père}_p} = d_p - 1$  dans  $\gamma_t$ .

Soit  $T = (V, E_T)$ , où  $E_T = \{\{p, q\} \in E, q \neq R \wedge \text{père}_q = p \text{ dans } \gamma_t\}$ .

**Lemme 3** (Fermeture et correction).  $T$  est un arbre couvrant en largeur d'abord.

**Preuve.** Nous démontrons tout d'abord que  $T$  un arbre couvrant en utilisant l'équivalence : « Un graphe de  $n$  nœuds est un arbre si et seulement s'il contient  $n - 1$  arêtes et est acyclique ».

**$T$  est sans cycle :** Supposons, par contradiction, que  $T$  contient un cycle  $p_0, \dots, p_k, p_0$ . Tout d'abord, par définition,  $R$  ne fait pas partie de ce cycle. Ensuite, supposons, sans perte de généralité, que pour tout  $i > 0$ ,  $\text{père}_{p_i} = p_{i-1}$  et  $\text{père}_{p_0} = p_k$ . D'après le corollaire 2, on a  $d_{p_{i-1}} < d_{p_i}$  et par transitivité,  $d_{p_0} < d_{p_k}$ . Or, puisque  $\text{père}_{p_0} = p_k$ , on a  $d_{p_k} < d_{p_0}$  d'après le corollaire 2, contradiction.

**$E_T$  contient  $n - 1$  arêtes :** Suivant le même raisonnement que précédemment, chaque arête de  $E_T$  est pointée par le pointeur  $\text{père}$  d'un unique processus nonracine (deux processus adjacents ne peuvent désigner la même arête) : Supposons le contraire, soit deux voisins  $p$  et  $q$  tels que (1)  $\text{père}_p = q$  et (2)  $\text{père}_q = p$  D'après le corollaire 2, (1) implique  $d_q < d_p$  et (2) implique  $d_p < d_q$ , contradiction.

Ainsi, puisqu'il y a  $n - 1$  processus nonracines, on a  $|E_T| = n - 1$ .

Nous montrons maintenant que  $T$  est en largeur d'abord. Soit  $p_0 = R, \dots, p_k$  l'unique chemin de  $R$  à  $p_k$  dans l'arbre. Par définition, pour tout  $i > 0$ ,  $\text{père}_{p_i} = p_{i-1}$ . D'après le corollaire 2, on a  $d_{p_{i-1}} = d_{p_i} - 1$  et par transitivité, on a  $d_{p_0} = d_{p_k} - k$ . De plus,  $d_{p_0} = d_R = 0$ . Donc,  $d_{p_k} - k = 0$  :  $d_{p_k}$  est égale à la longueur  $k$  du chemin entre  $R$  et  $p_k$ . Or, d'après le lemme 2,  $d_{p_k}$  est aussi égale à  $\|R, p_k\|$ . D'où la longueur  $k$  de l'unique chemin de  $p_k$  vers  $R$  dans  $T$  est égale à la distance de  $R$  vers  $p_k$  dans  $G$ .  $\square$

### 3.2 Terminaison

Soit  $D_i = \{p \in V, d_p \leq i\}$ , pour tout  $i \in [0..D]$ .

**Question 8.** Combien de fois  $D_0$  peut être modifié ?

**Question 9.** Supposons que le contenu de  $D_k$  ne peut être modifié qu'un nombre fini de fois. Qu'en est-il alors de l'ensemble  $D_{k+1}$ , s'il existe ? (Justifiez votre réponse par une preuve)

**Question 10.** D'après la réponse à la question précédente, que concluez-vous au sujet de la règle  $CD$  ?

**Question 11.** Si le nombre d'exécution de la règle  $CD$  est finie dans toute l'exécution, que peut-on conclure sur le nombre d'exécution de la règle  $CP$  dans l'exécution ? (Justifiez)

D'après les réponses aux questions 7 à 10, nous pouvons conclure :

**Lemme 4.** À partir d'une configuration quelconque, le système atteint une configuration terminale en un nombre fini de pas de calcul.

À partir d'une configuration quelconque, le système atteint une configuration terminale en un nombre fini de pas de calcul d'après le lemme 4, cette dernière étant légitime d'après le lemme 3. Ainsi, nous pouvons conclure :

**Théorème 1.** L'algorithme constitué des règles  $CD$  et  $CP$  est autostabilisant et silencieux pour le calcul d'un arbre couvrant en largeur sous l'hypothèse d'un démon distribué inéquitable.

### 4 Temps de stabilisation en rondes de l'algorithme

**Question 12.** Considérons le réseau de  $\mathcal{D} + 2$  processus  $p_0, \dots, p_{\mathcal{D}+1}$  donné dans la figure 3. Initialement :

- La variable  $d$  de tous les processus nonracines  $p_i$  ( $i \in [0..\mathcal{D} + 1]$ ) est égale à  $D$ .
- La variable  $père_p$  de chaque processus nonracine  $p_i$  ( $i \in [1..\mathcal{D} + 1]$ ) pointe sur  $p_{i-1}$ .

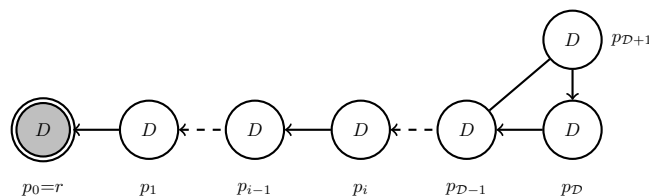


FIGURE 3 – Configuration initiale.

En supposant que  $D > \mathcal{D}$ , donnez la trace de l'exécution synchrone de l'algorithme à partir de cette configuration initiale pour  $n = 7$  processus. Quel est le temps de stabilisation en rondes sur cet exemple ? Généralisez à tout réseau de cette forme.

**Question 13.** Reprenez l'exemple précédent avec  $D = \mathcal{D}$ . Que concluez-vous ?

Pour les questions suivantes, nous rappelons que nous considérons un démon distribué inéquitable.

**Question 14.** Après une ronde, que peut-on dire de l'état de la racine ? de l'état des processus nonracine ?

**Question 15.** Que peut-on déduire de l'état des processus après  $k > 0$  rondes ? après  $\mathcal{D} + 1$  rondes ?

**Question 16.** Quel est le temps de stabilisation en rondes de l'algorithme (justifiez).